

### Übung 1:

Kreise die Mitten der Strecken ein.

1/Mitte der Strecke [AB] :



2/ Mitte der Strecke [CD] :



### Übung 2 :

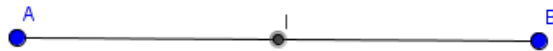
Antworte auf die Fragen :



I ist die Mite von [AB]

Richtig oder falsch ?

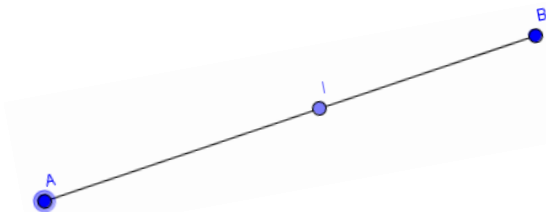
.....



I ist die Mite von [AB]

Richtig oder falsch ?

.....



I ist die Mite von [AB]

Richtig oder falsch ?

.....

### Übung 1:

Kreise die Mitten der Strecken ein.

1/Mitte der Strecke [AB] :



2/ Mitte der Strecke [CD] :



### Übung 2 :

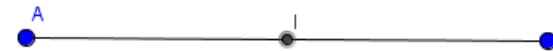
Antworte auf die Fragen :



I ist die Mite von [AB]

Richtig oder falsch ?

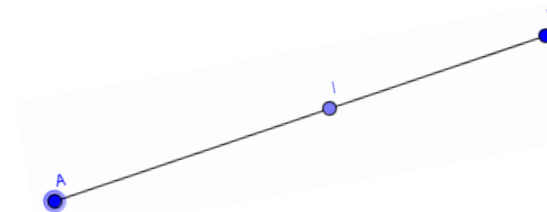
.....



I ist die Mite von [AB]

Richtig oder falsch ?

.....



I ist die Mite von [AB]

Richtig oder falsch ?

.....